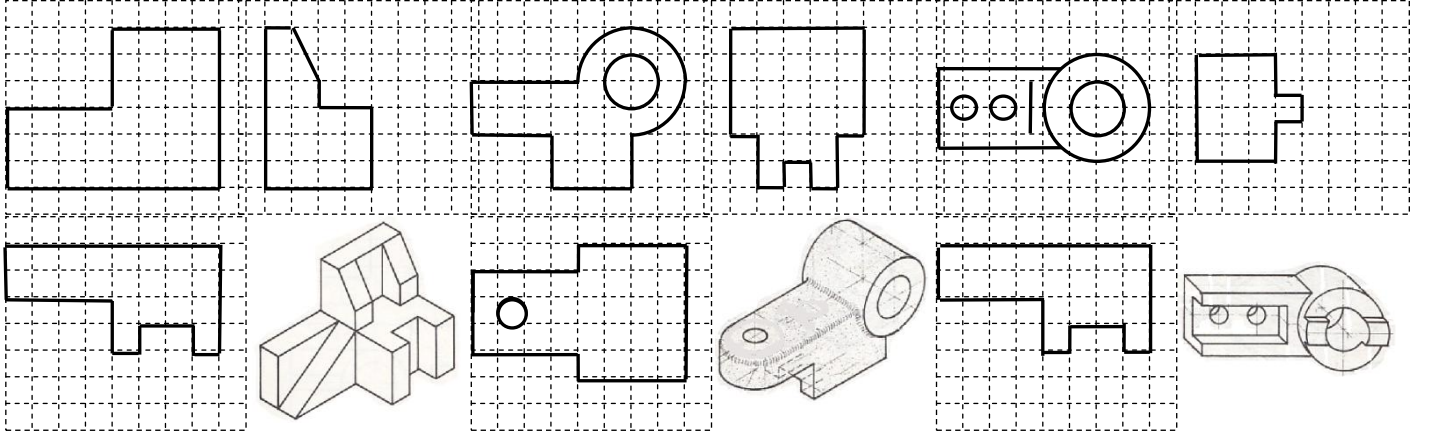


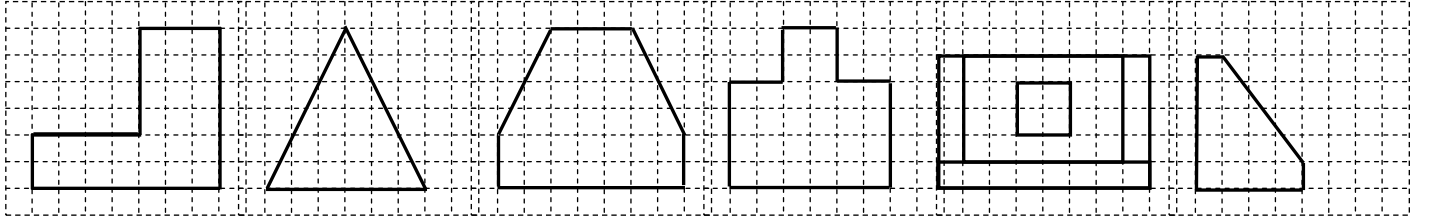
KARABÜK ÜNİVERSİTESİ, MÜHENDİSLİK FAKÜLTESİ, ENDÜSTRİ MÜHENDİSLİĞİ, BİLGİSAYAR DESTEKLİ TEKNİK RESİM, VİZE SINAVI, 21.04.2012

Not: Doğru çizgiler + puan, Yanlış çizgiler – puan olarak değerlendirilecektir. Rastgele çizgi çizmeyiniz. Şekiller yaklaşık ölçüdedir. Kılavuz çizgilerin üzerinden çizin. Şablonla okunacaktır. Metin sorularında soru başları @ sembolleri ile, cevap şıkları ise © sembolleri ile gösterilmiştir. Şıkları işaretlerken © sembolünün içini düzgünce karalayınız. Aralarda dolu soruları vardır bunları **dikkate almayınız**. Sınav esnasında hiç bir gözetmene veya hocaya soru sormayınız. Sorularda bir hata varsa lehinize olacak şekilde değerlendirilecektir.

@Aşağıdaki sorularda, dış hatları ve perspektifi verilen parçaların görünüşlerini tamamlayın.



@Aşağıdaki sorularda, dış hatları verilen parçaların görünüşlerindeki eksik çizgileri tamamlayın.

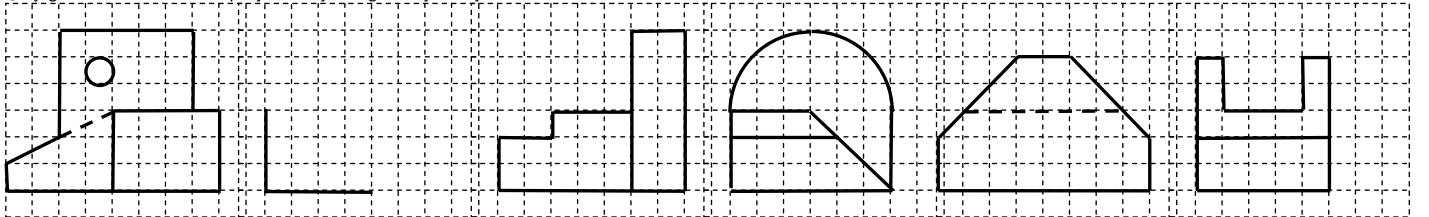


@AutoCad çizim programında, F7 tuşuna karşılık gelen komut, Ortho komutudur. © Doğru
@ Yanlış. @ AutoCad' de düz çizgi çizmemizi sağlayan komut F3 ile çalışır. © Doğru.
@ Yanlış. @ Bu soru dolu amaçlı konulmuştur. © dikkate almayınız. © © ©

@AutoCad'de Array komutu, Kullanılırken "row number" satır sayısını gösterir © Doğru
@ Yanlış. @ Aşağıdakilerden hangisi çizgileri uzatmak için kullanılır. © Extrude © Array © Extension © Explode © "Spline" yay çizmemizi sağlayan komuttur © D © Y

@Autocad'de hangisi çizim Komutlarından (Draw) değildir? © polygon © Stretch © arc © hatch © region © spline @ Autocad'de hangisi güzellme (modify) komutlarından değildir? © copy © array © scale © move © Hidden © break © fillet © © © © © © ©

@Aşağıdaki sorularda verilen parçaların üçüncü görünüşlerini çiziniz.

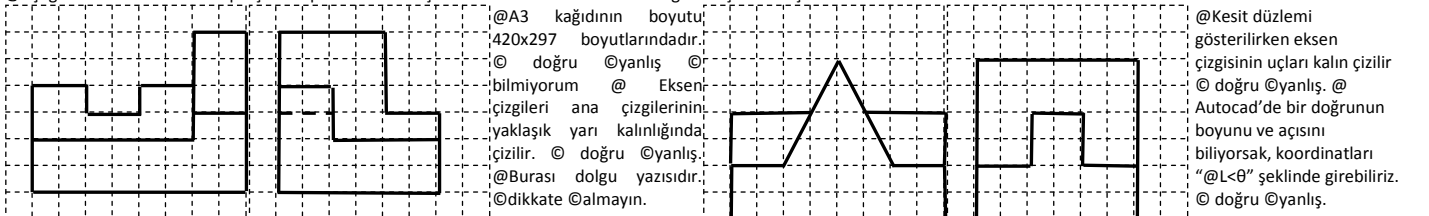


@ Ölçülendirme yaparken ölçü çıkları her zaman 1x3mm boyundadır. © doğru © yanlış
@ Bu metin dolu amaçlı konulmuştur. @ Ölçülendirme taşıma çizgileri ölçü çizgilerini kesebilir © doğru © yanlış © bilmiyorum @ Burası dolu amaçlıdır. © sdf ©

@ Silindirik yandan ölçülen çirtilirken çap sembolü kullanılmalıdır. © doğru © yanlış
@ Eksen çizgileri çizilirken nokta yerine kısa çizgi kullanılır © doğru © yanlış. @ Teknik resimde yazılar 75 derece eğimle yazılır. © doğru © yanlış © bilmiyorum

@ "Base point" ifadesi copy komutunda tutma noktası anlamında kullanılır? © doğru © yanlış. @ Autocad geçen "Polar" kelimesi hangi komutun içinde kullanılmaktadır. © array © poligon © region © copy © arc © diğer © prism © diğer © ©

@Aşağıdaki sorularda verilen parçaların perspektiflerini çiziniz. Perspektifine bakarak üst görünüşlerindeki çizin.



@ A3 kağıdının boyutu 420x297 boyutlarındadır. © doğru © yanlış © bilmiyorum @ Eksen çizgileri ana çizgilerinin yaklaşık yarı kalınlığında çizilir. © doğru © yanlış. @ Burası dolu yazısıdır. © dikkate almayın.

@ Kesit düzlemi gösterilirken eksen çizgisinin uçları kalın çizilir © doğru © yanlış. @ Autocad'de bir doğrunun boyunu ve açısını biliyorsak, koordinatları "@L<θ" şeklinde girebiliriz. © doğru © yanlış.

